



GUÍA DE HISTORIA GEOGRAFÍA Y CIENCIAS SOCIALES.

ASIGNATURA	Historia	CURSO	4º	DOCENTE	Tamara Gallardo
ALUMNO				FECHA	Lunes 10 de mayo del 2021

OA06: Ubicar lugares en un mapa, utilizando coordenadas geográficas como referencia (paralelos y meridianos).

Objetivo: Conocer el concepto de paralelos y meridianos y su utilidad para la ubicación geográfica en la Tierra.

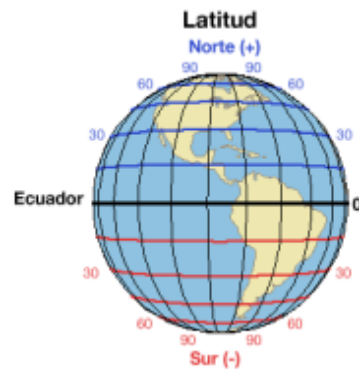
I.- Comenzar la clase en página 12 y 13. Tomo I de su texto escolar.
¿Qué son los paralelos y los meridianos?

COORDENADAS GEOGRÁFICAS.

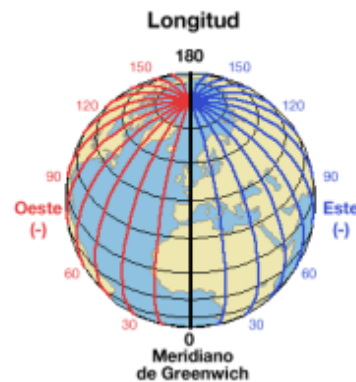
Las coordenadas geográficas sirven como **referencia para localizar cualquier punto en la superficie de la tierra.**

Para localizar utilizamos:

Paralelos: Estos son líneas imaginarias con dirección este-oeste. El paralelo que se toma como referencia es el Ecuador (0°) que divide la Tierra en dos hemisferios, el norte y el sur. Indica la latitud de un lugar.

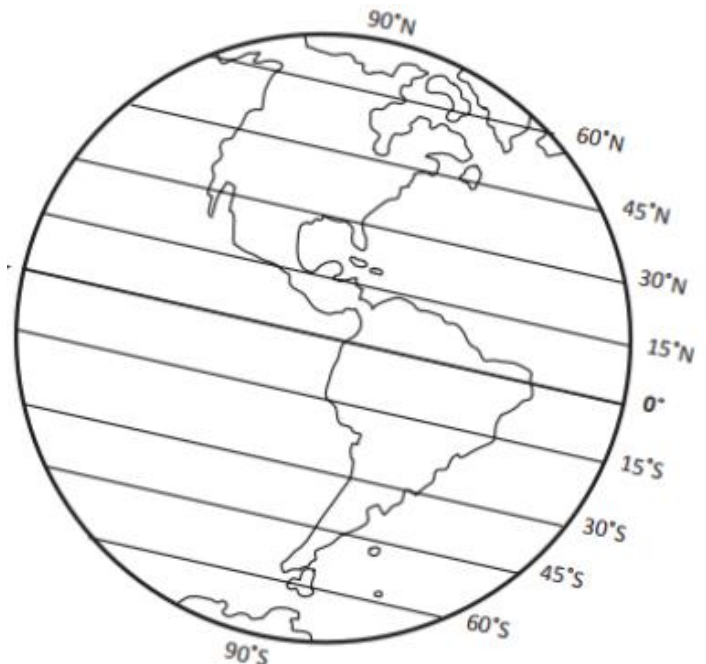


Meridianos: Son líneas imaginarias dirección norte-sur, que unen los polos (polo norte y polo sur). El meridiano de Greenwich (0°) es el que se toma como referencia. Indica la longitud de un lugar.



I.- Cumple las siguientes instrucciones.

- Marca con un lápiz de color rojo la **Línea del Ecuador** y escribe su nombre.
- Dibuja de color **amarillo** los **paralelos** que sirven para medir la **latitud norte** de un lugar.
- Dibuja de color **verde** los **paralelos** que sirven para medir la **latitud sur** de un lugar.
- Entonces la **distancia medida en grados** entre el paralelo de un lugar y la Línea del Ecuador la llamamos: _____





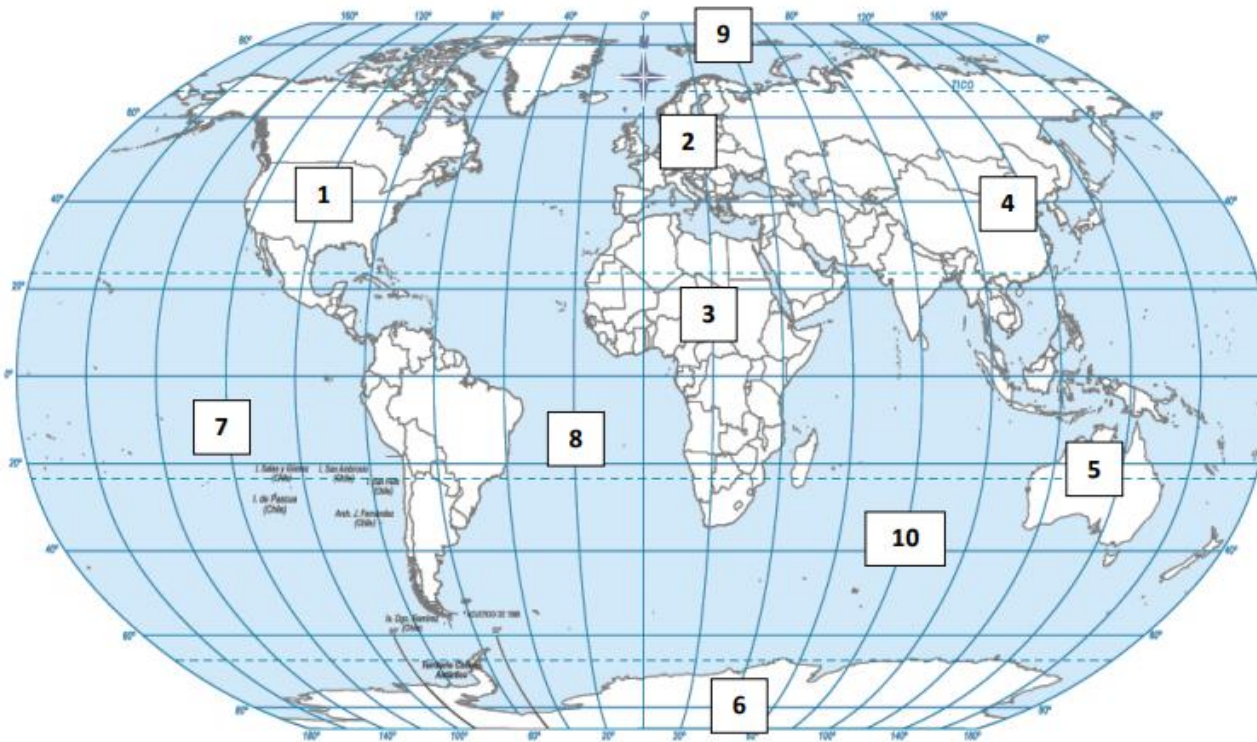
II.- Cumple las siguientes instrucciones.

- a) Marca con un lápiz de color azul el **Meridiano de Greenwich** y escribe su nombre.
- b) Pinta de color **naranja** el **hemisferio este** y escribe su nombre.
- c) Pinta de color **celeste** el **hemisferio oeste** y escribe su nombre.
- d) **Remarca** de color morado los meridianos que sirven para medir la longitud este de un lugar.
- e) **Remarca** de color morado los meridianos que sirven para medir la longitud oeste de un lugar.



III.- Responde según se indica:

- a) En el planisferio traza de color rojo la línea del Ecuador y de color verde el meridiano de Greenwich.
- b) Escribe el nombre del continente y del océano según indica el número.





Los **paralelos** son unas líneas imaginarias circulares que se utilizan en las coordenadas geográficas para determinar la latitud de un lugar, es decir, **qué** tan lejos se encuentra ese punto del ecuador.

IV.- Observa la imagen y responde a las siguientes preguntas.



1. ¿Qué son los paralelos?

R: _____

2. ¿Cuál es el paralelo principal?

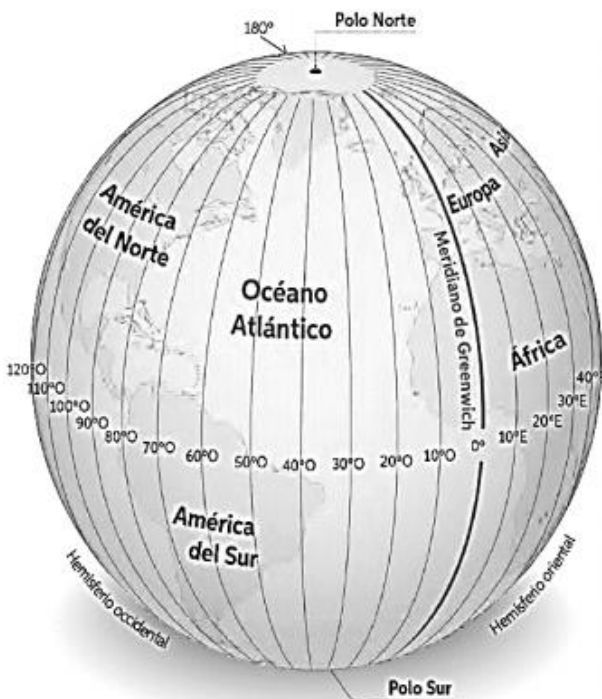
R: _____

3. ¿Cuál es la función principal de los paralelos?

R: _____

Son líneas imaginarias cuya utilidad **principal** es poder determinar la posición (Longitud) de cualquier lugar de la Tierra respecto a un **meridiano** de referencia o **meridiano 0**, añadiendo la Latitud, determinada por el Paralelo que pasa por ese punto.

V.- Observa la imagen y responde a las siguientes preguntas.



1. ¿Qué son los meridianos?

R: _____

2. ¿Cuál es el meridiano principal?

R: _____

3. ¿Cuál es la función principal de los meridianos?

R: _____
