


1.- Observa y responde:



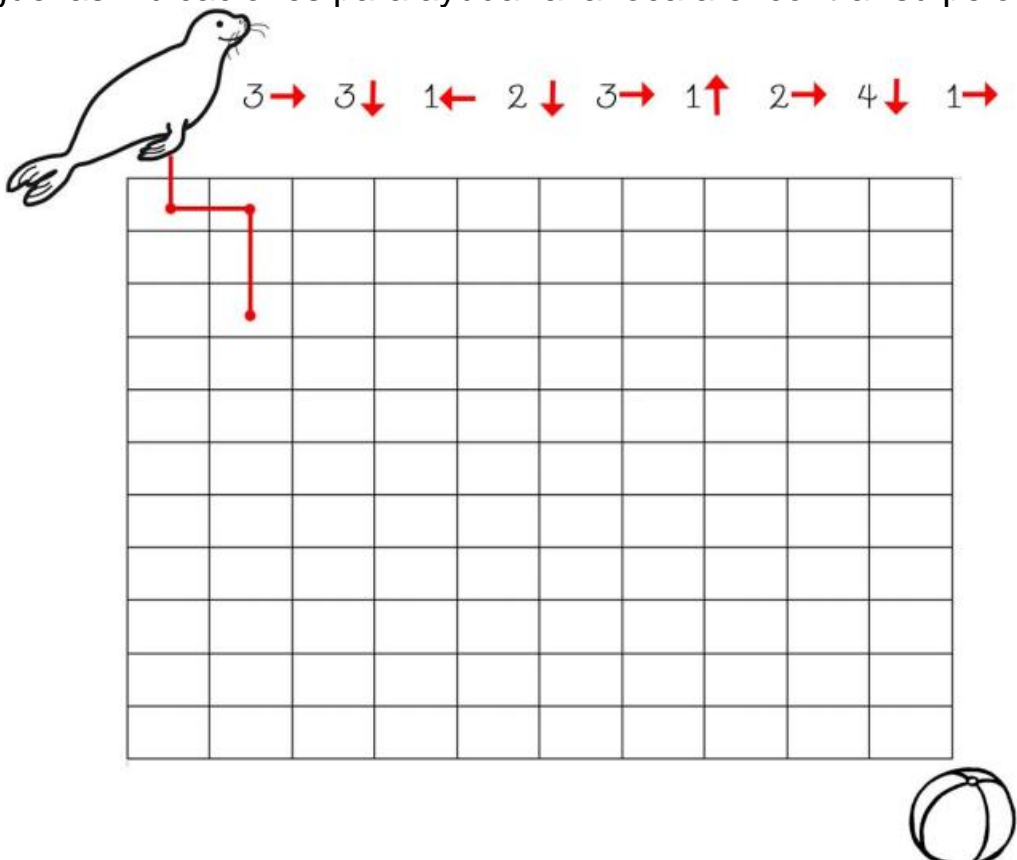
a.- ¿Quién está a la derecha del caballo? _____

b.- ¿Quién está a la izquierda del conejo? _____


c.- ¿Quién está a la derecha del perro? _____

d.- ¿Quién está a la izquierda del león? _____

2. Sigue las indicaciones para ayudar a la foca a encontrar su pelota.



3. Colorea las palomas de acuerdo a las claves.



Lee y resuelve cada ejercicio y responde en forma completa.

1.- Paula tiene 86 flores, si tiene 53 rosas ¿Cuántas petunias tendrá?

Cálculos	Respuesta completa
	<hr/> <hr/> <hr/> <hr/>

2.- Jaime tiene 56 autos verdes y 13 amarillos ¿Cuántos autos tiene en total Jaime?

Cálculos	Respuesta completa
	<hr/> <hr/> <hr/> <hr/>

3.- Antonia está leyendo un cuento que tiene 58 páginas y ha leído 15 páginas ¿Cuántas páginas le falta leer?

Cálculos	Respuesta completa
	<hr/> <hr/> <hr/> <hr/>

--	--